

TEST IZ ALATA GRAFIČKOG DIZAJNA

Ime i prezime:

Broj indeksa:

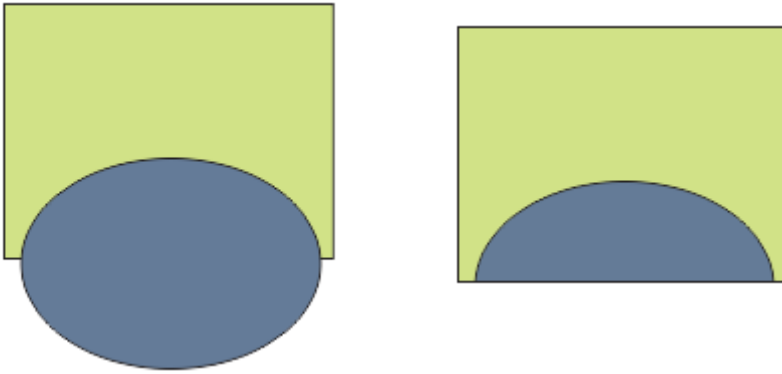
Datum:25.04.2017

Corel - I grupa - POP

1. Nabrojte barem tri formata fajla koje može da kreira Corel (1/2 boda)
2. Kako selektujemo više objekata istovremeno... (bar dva načina)? (1/2 boda)
3. Kako se vrši dupliciranje objekata (NE kopiranje već dupliciranje) i šta time dobijamo? (1/2 boda)
4. Opcija *Order / Behind...* nam omogućava šta? Primenom na neki objekat (1/2 boda)
5. Objasniti postupak kojim se od kvadrata može dobiti kocka? (1/2 boda)
6. Na slici sa strane označiti alat (grupu alata gde se nalazi alat) koji služi za deformisanje objekata uz pomoć krive. (označavanje vršite tako što upisete broj pitanja pored alata-grupe alata) (1/2 boda)
7. Na slici sa strane označiti alat (grupu alata) koji služi za uzimanje uzorka boje. (označavanje vršite tako što upisete broj pitanja pored alata-grupe alata) (1/2 boda)
8. Da li se na deo slike u Corel-u može primeniti *Blur* efekat? Obrazložiti (1 bod)
9. Da bi se promenio oblik npr. kruga, kvadrata... (tj. Dodatno iskrivio i « poremetio ») šta prvo moramo uraditi sa tim objektom ? (1/2 boda)
10. Navesti opciju koja nam omogućuje da boju ispune, osobine ivice... nekog objekta prenesemo na drugi objekat. (1/2 boda)

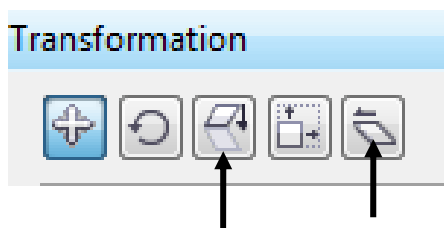


11. Navesti opciju kojom ćemo elipsu «spakovati» na površinu kvadrata (**bez isecanja**) da bi se dobio rezultat kao na slici desno (1/2 boda)



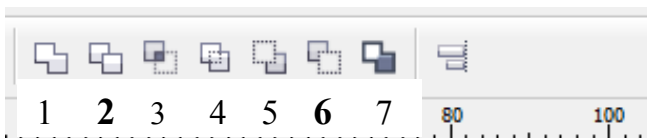
12. Nabrojati nazive (pod)opcija sa sledeće slike... i objasniti značenje 3. i 5. po redu..

(2 boda)



- 1.
- 2.
- 3.
- 4.
- 5.

- 13.



Na objekte sa slike primeniti opcije pod rednim brojem 3 i 6 i nacrtati **krajnji rezultat**

(2 boda)

